





















































Mi nombre: Antonio Gil
Fecha: 29 octubre Hora: 2:20


ecognitiva

Ponga un 1 debajo de  , ponga un 2 debajo de  :

| | | | | | | | |
|--|--|--|--|--|--|---|--|
|  |  |  |  |  |  |  |  |
| 2 | 1 | | | | | 2 | |
|  |  |  |  |  |  |  |  |
| 1 | | 2 | | 1 | 1 | | 1 |
|  |  |  |  |  |  |  |  |
| | 2 | | 2 | | | 2 | |

Ponga un 1 debajo de  , ponga un 2 debajo de  :

| | | | | | | | |
|---|---|---|---|---|---|--|---|
|  |  |  |  |  |  |  |  |
| | | | | 1 | 1 | | |
|  |  |  |  |  |  |  |  |
| 1 | | | | | 2 | | |
|  |  |  |  |  |  |  |  |
| 1 | | | 2 | 2 | | 1 | 2 |



¿Cuántos hay?

| | | |
|----|----|----|
| ★ | ◎ | ★ |
| 29 | 33 | 32 |

<http://olgarodriguez-olga.blogspot.com/>

21 --

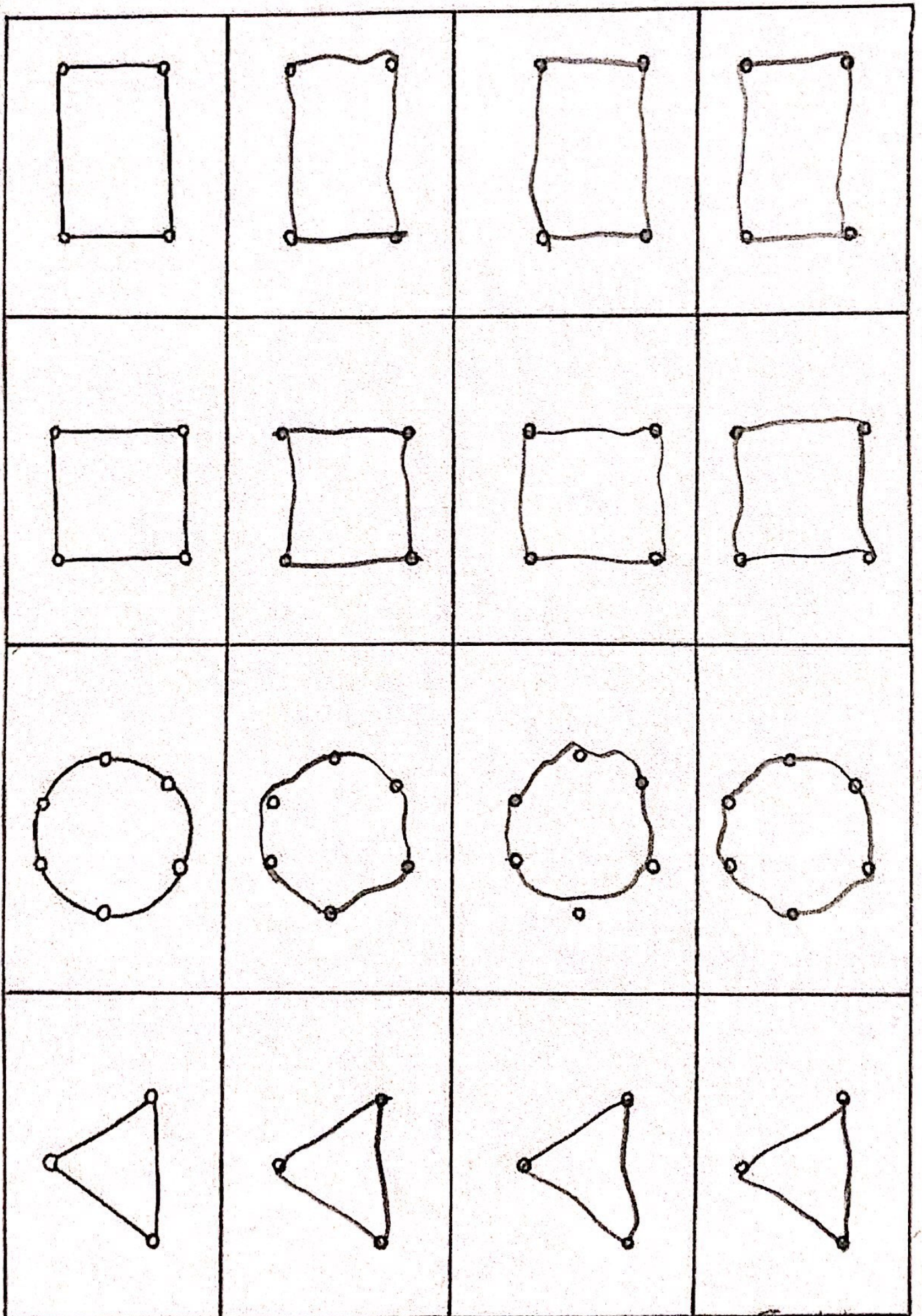
2900



Rodea con un círculo todos los números ANTONIO GIL

Rodea con un círculo todos los números


1 v a s 0 v a s 3 s v 3 a 1 n s 0 w b g q w b s w g b w a n 1 s a v 0 s a 1
 2 m 8 d q 0 9 f 2 0 m q d 8 m q d 8 f 0 f 2
 4 1 h 3 1 4 h 1 4 h 1 h 1 f h 1 1 f h 1 1 f h
 9 d k a z 9 d a 9 k d 9 a k d
 g v 7 x 0 g v x g 7 v g x 7 v
 7 i 1 a ñ 2 i 1 7 ñ i 7 a 1 i ñ a 1 7
 3 q m j 0 3 q j 3 m q 3 j m q
 i n 0 a n i 0 i n 0 n i
 h 8 d 2 m h 8 2 h d 8 h 2 d 8
 f 6 4 0 n 6 f 0 6 f 4 6 0 4 f
 m e 0 m e m m e
 9 5 t z 5 9 z 9 t 5 z t 5 9
 m 0 5 m m 0 m




Coquebede

Apple Addition


Add the pictures..




$$2 + 1 = \underline{3}$$




$$1 + 6 = \underline{7}$$




$$3 + 2 = \underline{5}$$




$$5 + 1 = \underline{6}$$



$$2 + 2 = \underline{4}$$



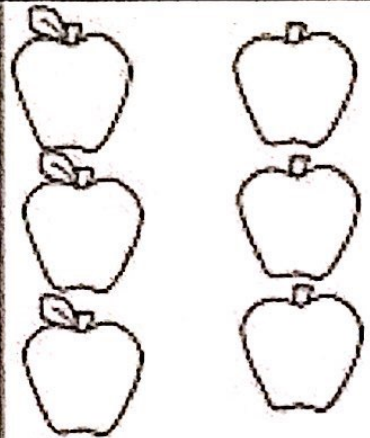
$$1 + 3 = \underline{4}$$



$$3 + 4 = \underline{7}$$



$$1 + 1 = \underline{2}$$



$$3 + 3 = \underline{6}$$

Antonio Gil

15

La rana Romina



La rana Romina salta de roca en roca
para ir al río a nadar.

La rana Romina deja su ropa
en una rama que está al lado
de la roca y se pone una rueda
en su estómago para no ahogarse.
La ranita no se cansa de tanto nadar.
¡La rana Romina se ríe y se ríe!

Lee y contesta correctamente

1. ¿Dónde salta la rana Romina?

RÍO

2. ¿Dónde deja su ropa?

ARBOL

3. ¿Qué se pone en el estómago?

ROTA



29 OCT

alma
lio

ANTONIO GIL

mamá

ala

Hola

lee

lame

lo ma

Romelia

oloxsa

Rima

Rama

ROSO RIO

Pe Ro

lo Bo

29 OCT